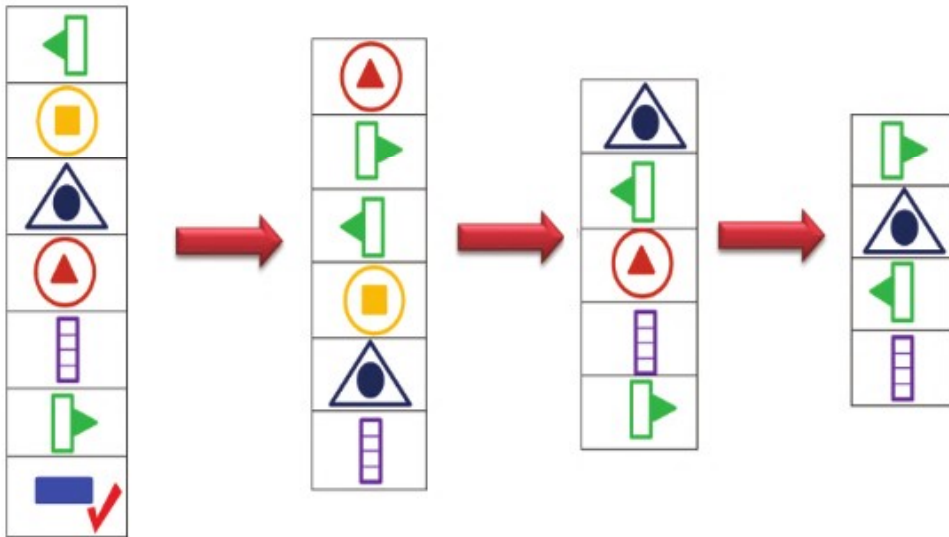


نام و نام خانوادگی: \_\_\_\_\_

کد نوآموز: \_\_\_\_\_

نمره	x	کل
۲۰	۵	

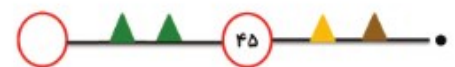
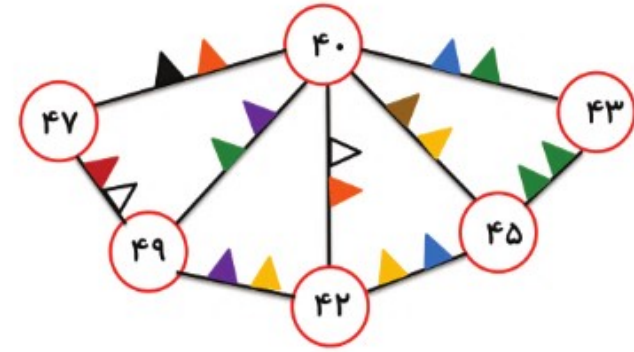
۲ مقایسه: در هر ستون شکل گم شده را پیدا کنید.



۳ تجزیه: هر عدد را طبق شکل داده شده تجزیه کنید.



شبكة های اساسی: با توجه به الگو کامل کنید.



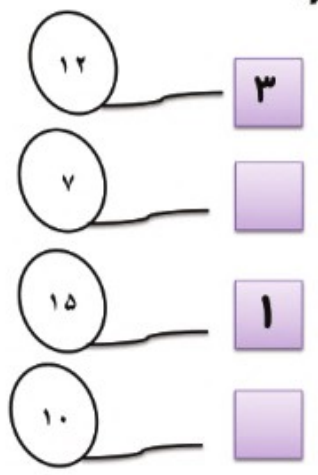

مختصات: شماره های ردیف و ستون هر کدام را بنویسید.

۴					
۳					
۲					
۱					
	۱	۲	۳	۴	۵



محاسبات داخل بادکنک ها را انجام دهید و سپس بگویید چند مورد از هر جواب وجود دارد.

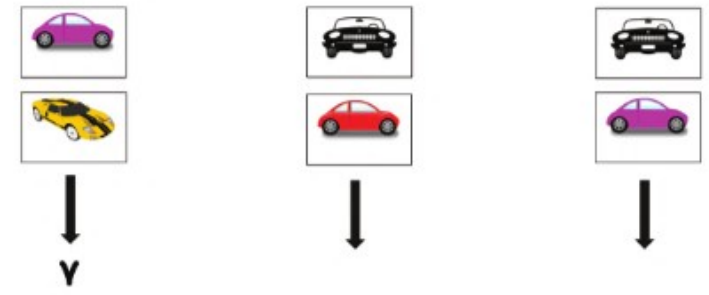
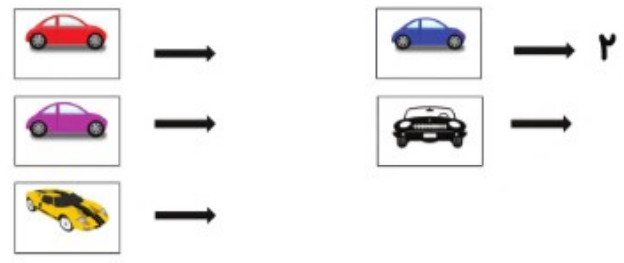
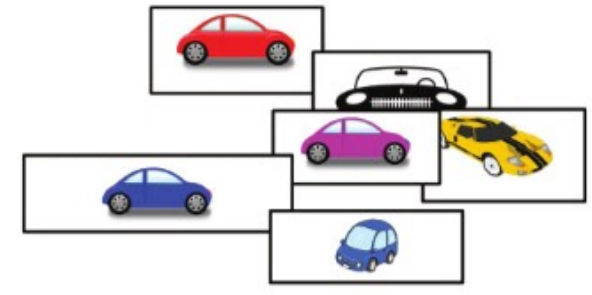
۲



۳

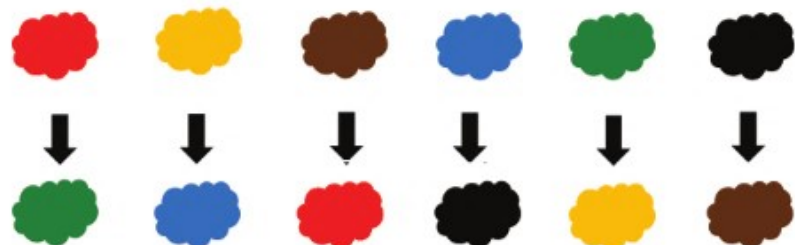
بسط: ابتدا شماره ماشین ها را پیدا کنید سپس محاسبات لازم را انجام دهید.

۲



جایگزینی یک طرفه: بر اساس تغییرات رنگ ها در نمونه بالا، جاهای خالی را رنگ کنید.

۲



۴

مهارت تفکر: مربع های خالی را با عدد مناسب پر کنید.

۳

