









نام و نام خانوادگی: \_\_\_\_\_

کد نوآموز: \_\_\_\_\_

نمره	x	کل
۲۰	۵	

ترکیب ویژگی ها: با توجه به ردیف و ستون های جدول اعداد پایین را به شکل مناسب وصل کنید.

مهارت تفکر: در هر ردیف طبق الگوی داده شده عدد بنویسید.

				
	۱۱	۵۱	۷۰	۳
	۱	۸۰	۵	۶۱
	۸۰	۴۰	۹	۳۰
	۲۰	۴	۹۰	۲







Row 1: Four hexagons divided into 6 triangles. The numbers in the triangles are: (7, 8, 9), (9, 10, 11), (11, 12, 13), (12, 11, 10).

Row 2: Five circles divided into 4 quadrants. The numbers in the quadrants are: (40, 41, 42, 43), (41, 42, 43, 44), (45, 46, 47, 48), (49, 50, 51, 52), (53, 54, 55, 56).







Row 3: Four 2x2 grids. The numbers in the grids are: (12, 18, 15, 21), (21, 27, 24, 30), (30, 36, 33, 39), (42, 48, 39, 45).

Row 4: A sequence of circles with numbers: 10, 17, 24, and three empty circles. Below the circles are red plus signs and the number 7: +7, +7, +7, +7, +7.

Matching exercise: Connect shapes to numbers in a central column.

Shapes on the left: , , , , , .

Central column numbers: 80, 61, 9, 4, [ ], 40.

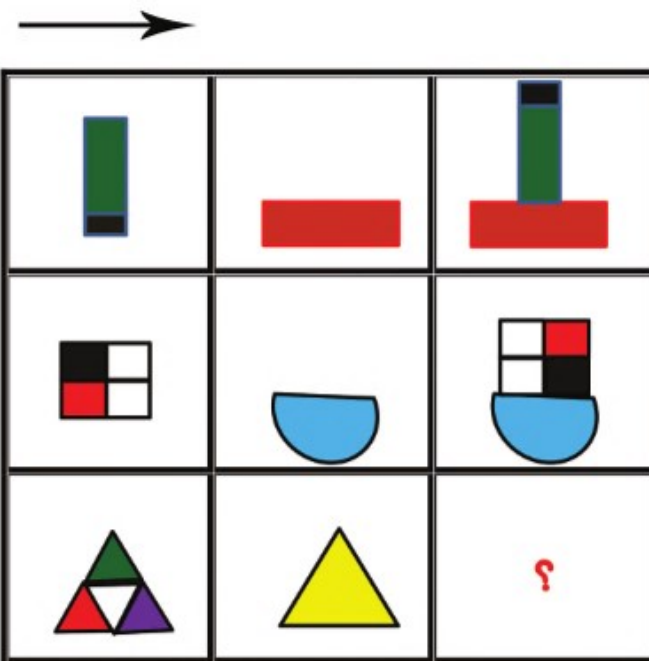
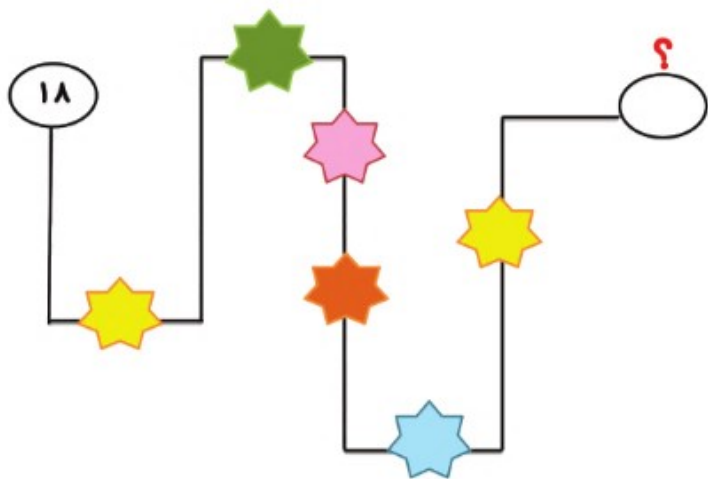
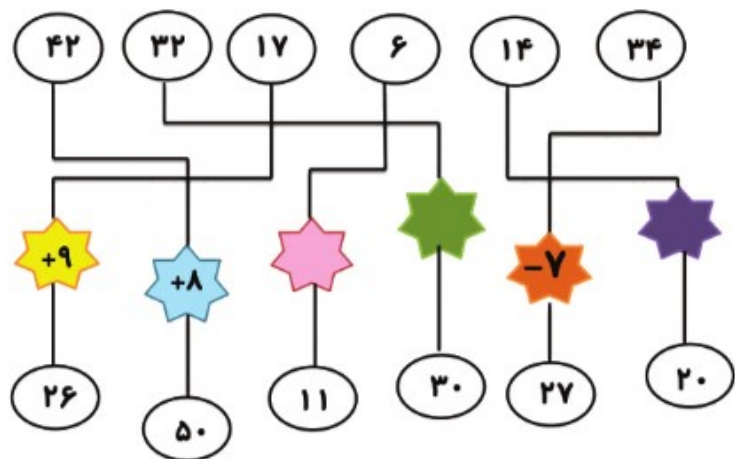
Shapes on the right: , , , , , .

مهارت تفکر: فکر میکنید کدامیک از شکل های پایین را  
 میتوان بجای علامت سؤال گذاشت.

۲

محاسبه: در جای خالی عدد مناسب بنویسید.

۲



۲



:




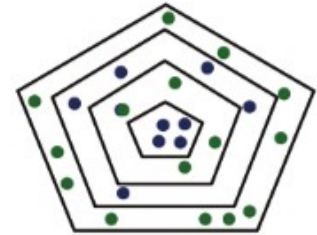
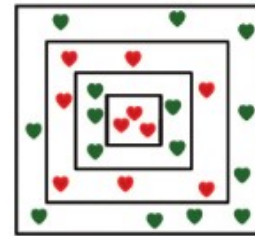
:



۱۲:۳۰



۷:۲۰



→ ۵



→



+



=



+



+



-



= ۱۰

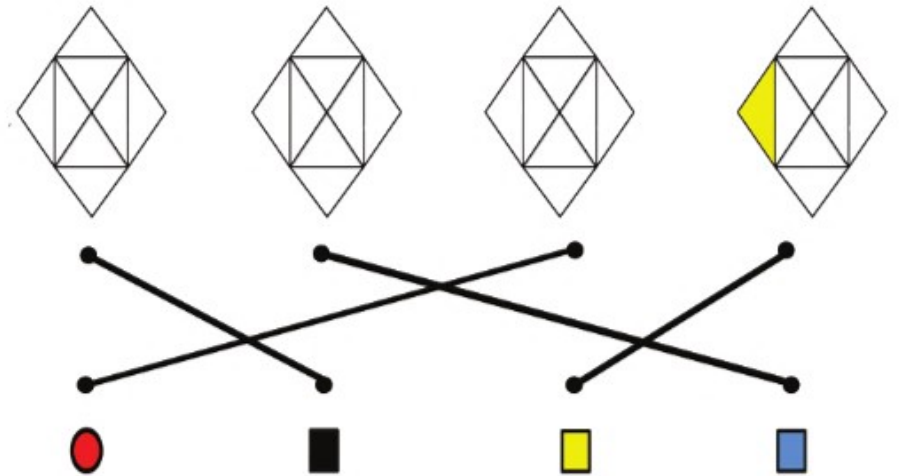

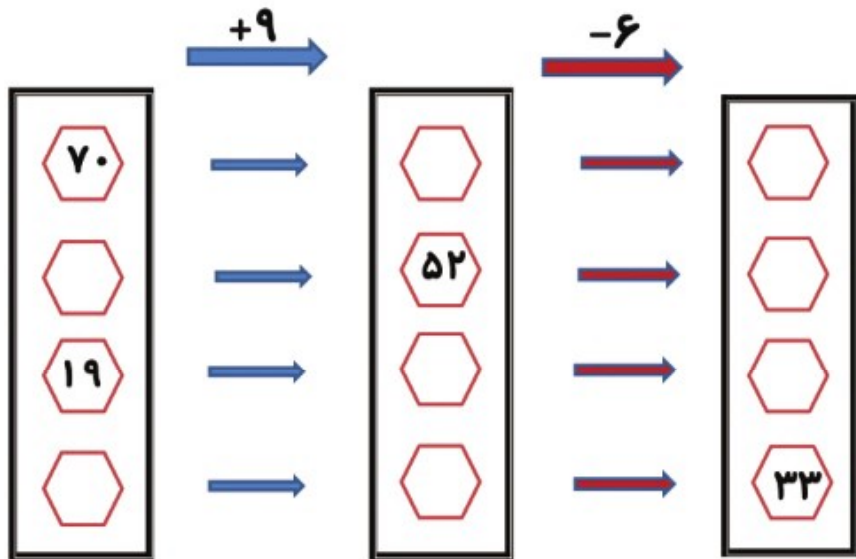
جهت یابی فضایی: به الگو نگاه کنید و شکل های پایین را

۳

در جای خود رنگ کنید.

محاسبات خواسته شده را انجام دهید.

۲



۴