
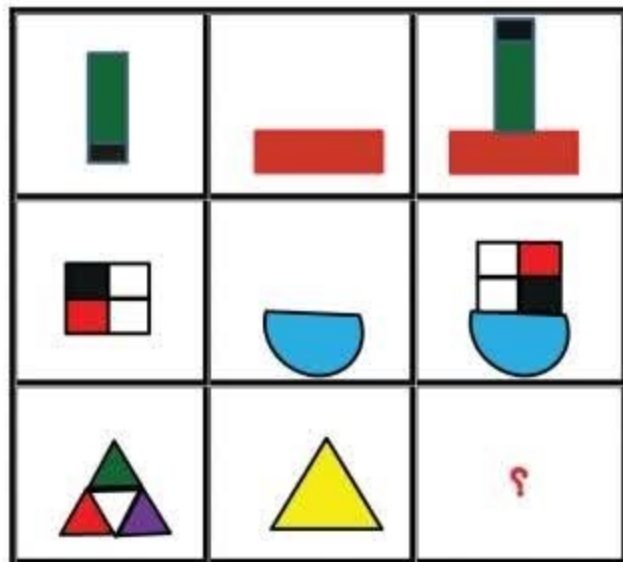
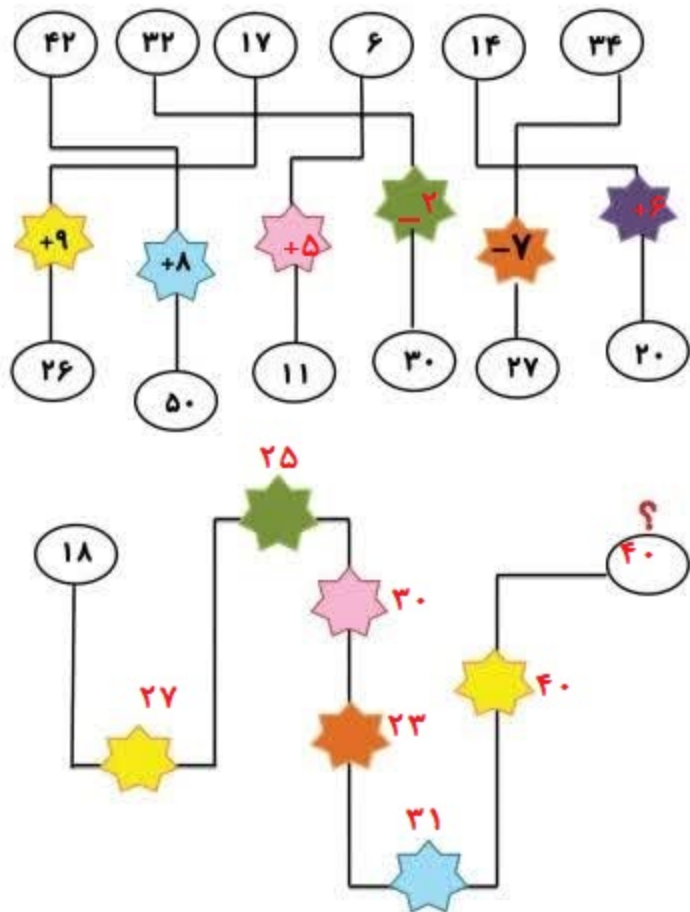


مهارت تفکر: فکر میکنید کدامیک از شکل های پایین را
 میتوان بجای علامت سؤال گذاشت.

۲

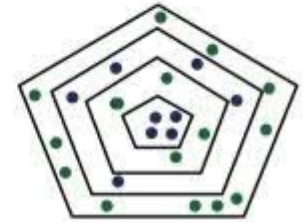
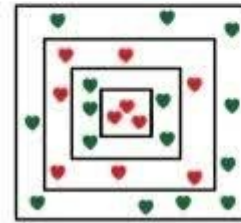
محاسبه: در جای خالی عدد مناسب بنویسید.

۲



مهارت مشاهده و تفکر: طبق الگو محاسبات را انجام دهید.

۳



→ ۵



→ ۱۱

$$\begin{array}{c} ۷ \\ \square \\ \square \\ \square \end{array} + \begin{array}{c} ۱۱ \\ \square \\ \square \\ \square \\ \square \end{array} = ۱۸$$

$$\begin{array}{c} \square \\ \square \\ \square \\ \square \end{array} + \begin{array}{c} \square \\ \square \\ \square \end{array} + \begin{array}{c} \square \\ \square \\ \square \end{array} - \begin{array}{c} \square \\ \square \\ \square \end{array} = ۱۰$$

ساعت های خواسته شده را بنویسید.

۲



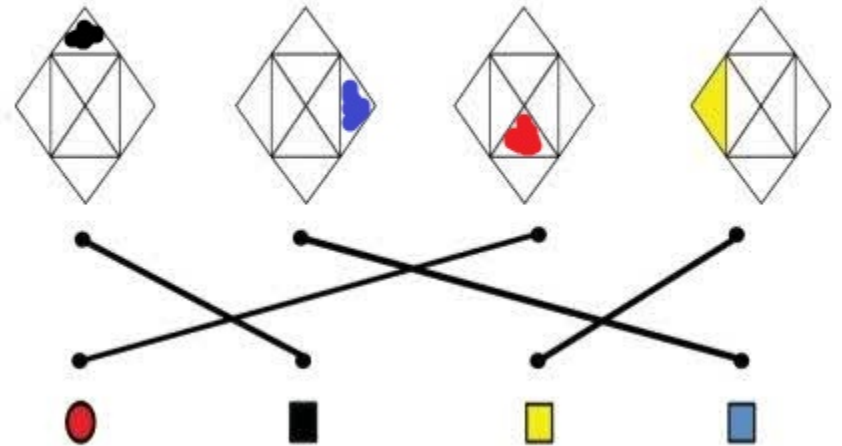
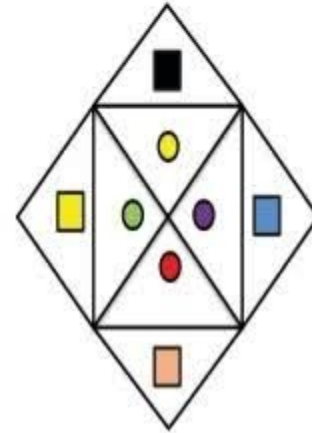
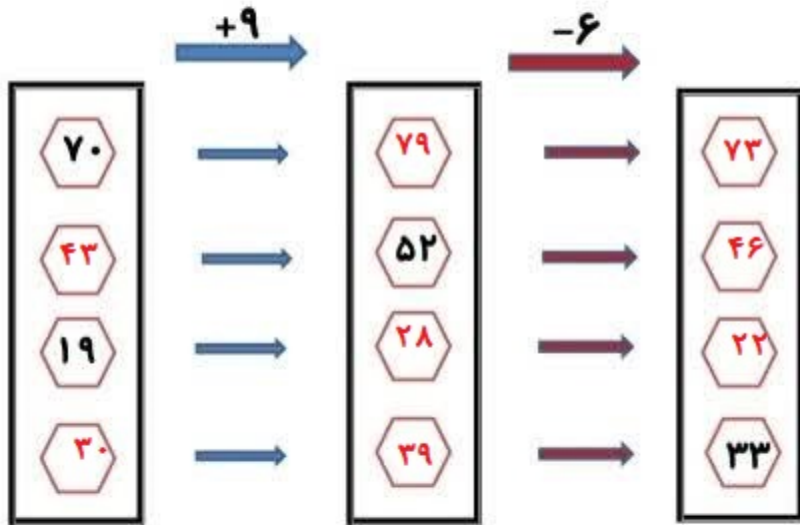
۳

جهت یابی فضایی: به الگو نگاه کنید و شکل های پایین را در جای خود رنگ کنید.

۳

محاسبات خواسته شده را انجام دهید.

۲



۴

نمره	x	کل
۲۰	۵	

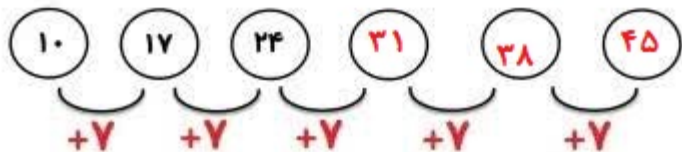
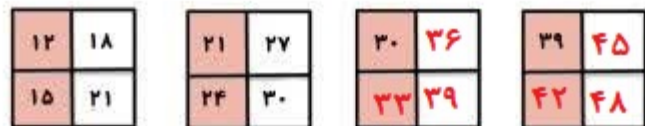
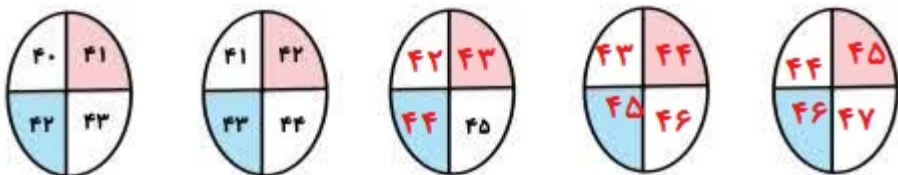
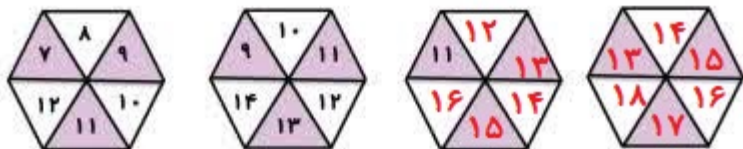
نام و نام خانوادگی: _____

کد نوآموز: _____

ترکیب ویژگی ها: با توجه به ردیف و ستون های جدول اعداد پایین را به شکل مناسب وصل کنید.

مهارت تفکر: در هر ردیف طبق الگوی داده شده عدد بنویسید.

۴



1

۲

	۱۳	۵۳	۷۸	۳۹
	۱۹	۸۸	۵۰	۶۴
	۸۷	۳۶	۹۱	۳۵
	۲۹	۴۰	۹۲	۲۰

