



نام و نام خانوادگی:

نمره	x	کل
۲۰	۵	

جشنواره استانی  
 شادی و نشاط سی مس  
 تیرماه ۱۴۰۲

علی و پدرش در مجموع ، ۱۸ ماهی صید کردند.  
 اگر هر کدام به تعداد مساوی ماهی صید کرده باشند ، هر کدام چند ماهی  
 صید کردند ؟

رسم کنید و بشمارید



پاسخ : هر یک از آنها  ماهی صید کردند

۱

جاهای خالی را بعدد مناسب پر کنید

$$\begin{array}{r}
 \square \quad ۶ \quad ۲ \\
 - \quad ۳ \quad ۱ \quad \square \\
 \hline
 ۴ \quad \square \quad ۵ \\
 \hline
 \end{array}$$

$$\begin{array}{r}
 \square \quad ۴ \quad ۷ \\
 - \quad ۳ \quad \square \quad ۲ \\
 \hline
 ۳ \quad ۴ \quad ۵ \\
 \hline
 \end{array}$$

۱

۵۶

۸۱

۱۳

۵۲

۹

۱۷

۴۸

لیست اعداد فرد

کوچکترین عدد فرد است

بزرگترین عدد فرد است

صدگان	دهگان	یکان

اختلاف

بزرگترین و کوچک ترین عدد فرد  
چقدر است؟

۳



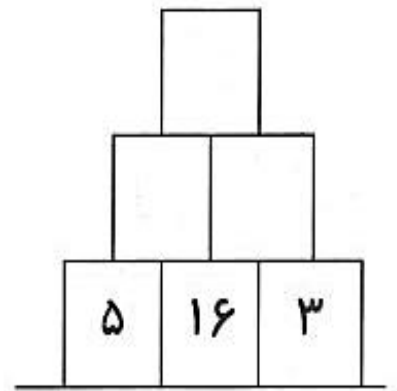
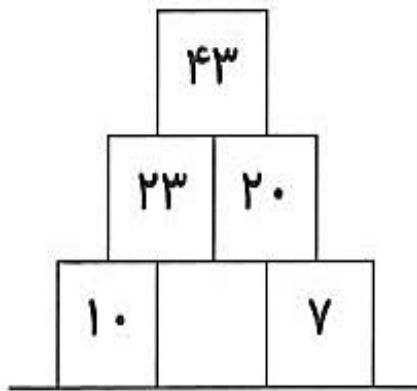
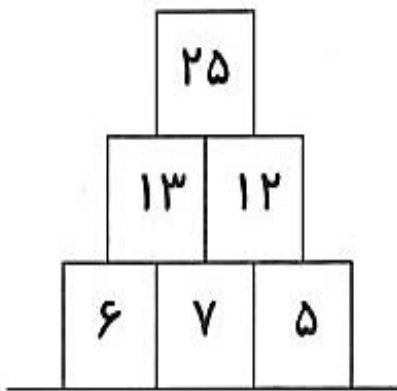
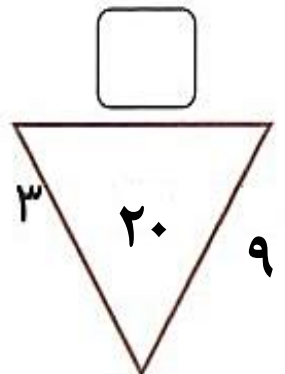
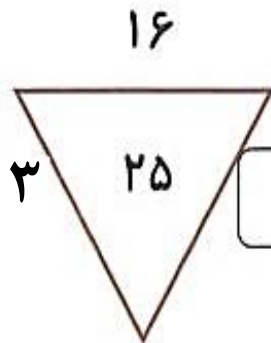
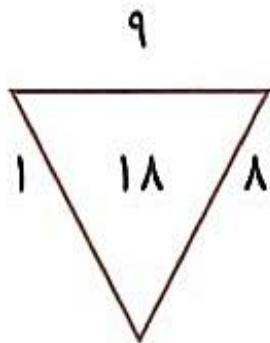
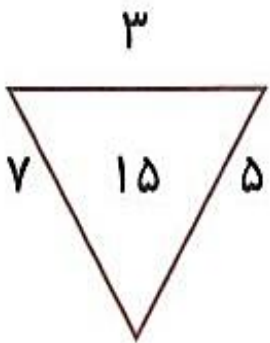
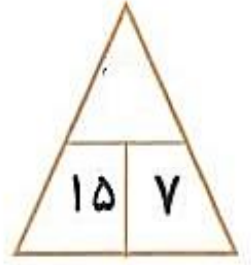
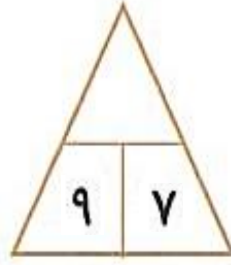
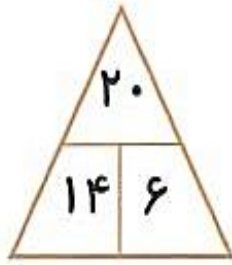
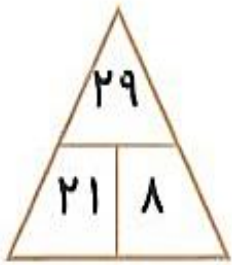
ریال

ریال

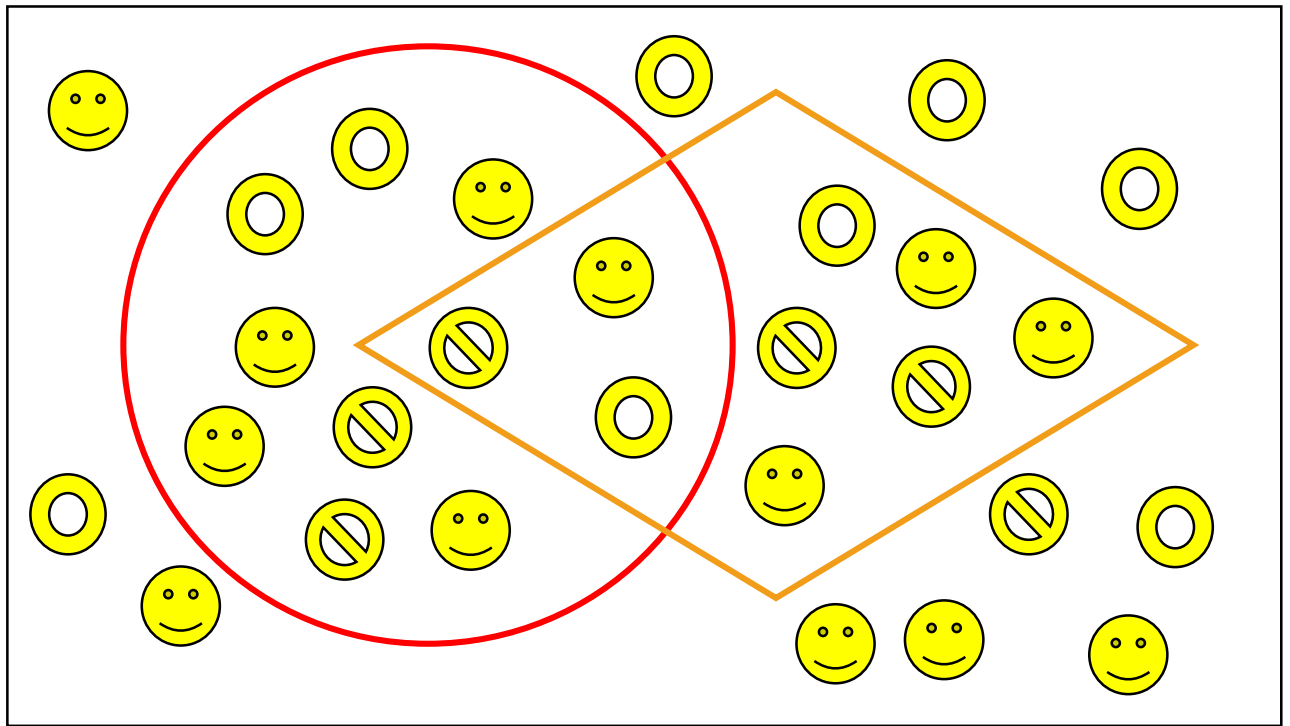
۱




۲

جاهای خالی را با عدد مناسب پر کنید





نمودار ون: جاهای خالی را با عدد مناسب پر کنید




یک صدتایی	یک ده تایی	یکی
		









از اعداد ۲، ۳، ۴ و ۶ استفاده کنید، قالب های زیر را در جدول طوری بچینید که هیچ عددی در هر سطر یا ستون تکرار نشود.

۳				→	<input type="text"/>
۶	۲			→	<input type="text"/>
			۳	→	<input type="text"/>
			۶	→	<input type="text"/>

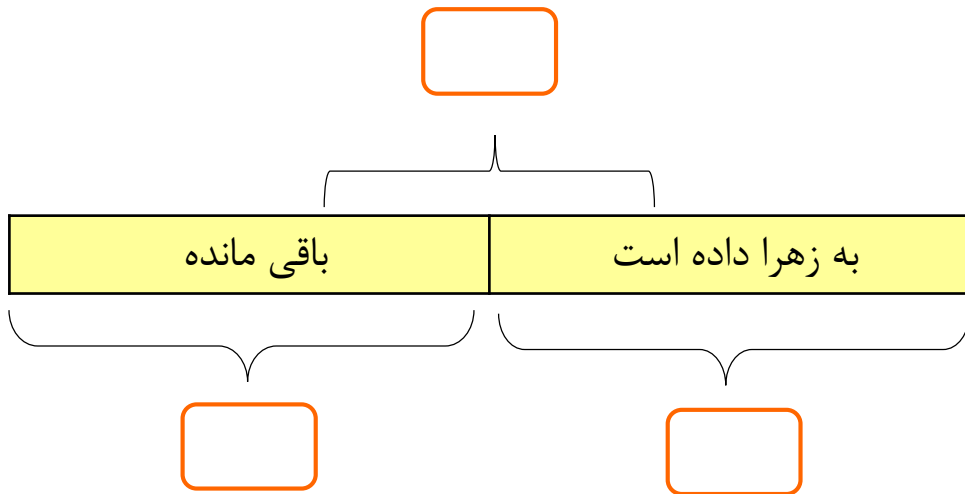
↓ ↓ ↓ ↓

۴	۶	۲
		۴

۴	
۲	۳

	۳
۶	۲
	۴

نوید ۳۸ چنگال و ۱۹ قاشق دارد.  
چند چنگال را به زهرا می دهد.  
۹ چنگال برای او باقی مانده است  
نوید چند عدد چنگال به زهرا داده است؟



$$\square \bigcirc \square = \square$$

پاسخ : .....

حالا نوید چند چنگال کمتر از قاشق دارد؟



$$\square \bigcirc \square = \square$$

پاسخ : .....

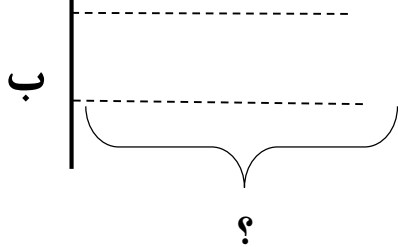

نوید اکنون و در کل الان چند قاشق و چنگال دارد؟

$$\square \bigcirc \square = \square$$

پاسخ : .....

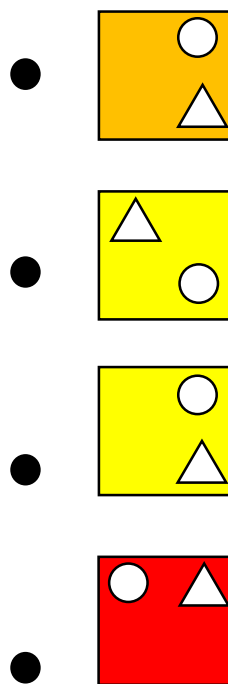

در سبد (الف) ۹ سیب وجود دارد  
 مهرداد ۳ سیب را به سبد (ب) منتقل می کند .  
 اکنون هر دو سبد دارای مقدار مساوی سیب هستند .  
 از ابتدا چند سیب در سبد (ب) وجود دارد ؟

رسم کنید و بشمارید



پاسخ : ابتدا  سیب در سبد (ب) وجود داشت

۲



۱

۷