


نام و نام خانوادگی:

نمره	x	کل
۲۰	۵	

علی و پدرش در مجموع ، ۱۸ ماهی صید کردند.
اگر هر کدام به تعداد مساوی ماهی صید کرده باشند ، هر کدام چند ماهی صید کردند ؟

رسم کنید و بشمارید



پاسخ : هر یک از آنها ۹ ماهی صید کردند

۱

جاهای خالی را بعدد مناسب پر کنید

$$\begin{array}{r}
 7 \quad 6 \quad 2 \\
 - \quad 3 \quad 1 \quad 7 \\
 \hline
 4 \quad 4 \quad 5
 \end{array}$$

$$\begin{array}{r}
 6 \quad 4 \quad 7 \\
 - \quad 3 \quad \cdot \quad 2 \\
 \hline
 3 \quad 4 \quad 5
 \end{array}$$

۱

۱

۵۶ ۸۱ ۱۳ ۵۲ ۹ ۱۷ ۴۸

۸۱ - ۱۳ - ۹ - ۱۷

لیست اعداد فرد

کوچکترین عدد فرد است

۹

بزرگترین عدد فرد است

۸۱

صدگان	دهگان	یکان
	۸	۱
-		۹
	۷	۲

اختلاف

بزرگترین و کوچک ترین عدد فرد

چقدر است ؟

۷۲

۳



ریال

۳۰۵



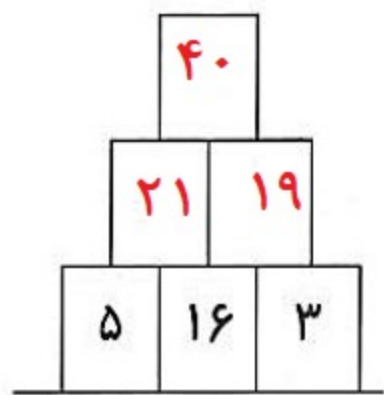
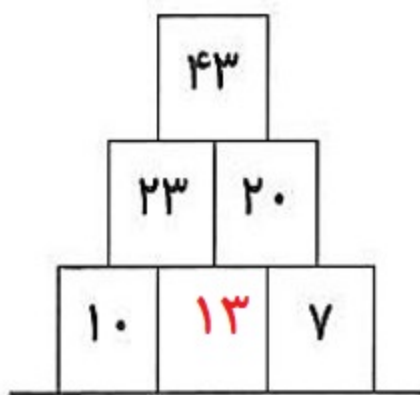
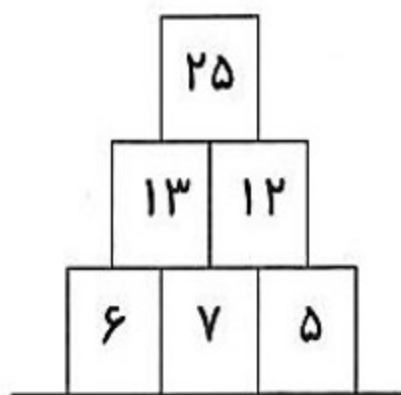
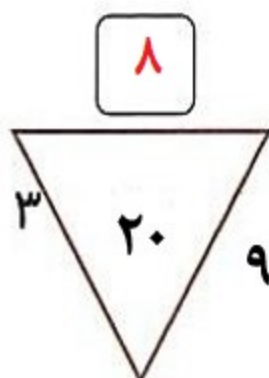
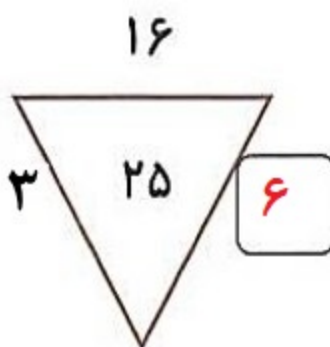
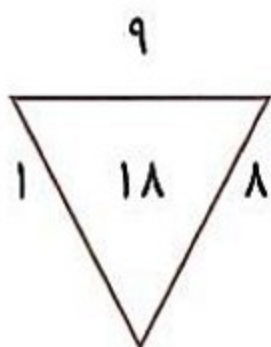
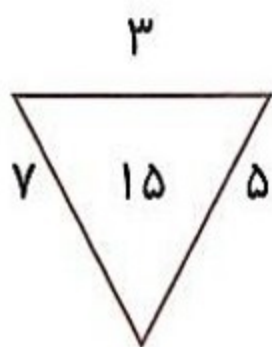

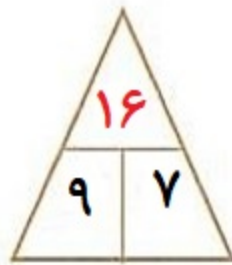

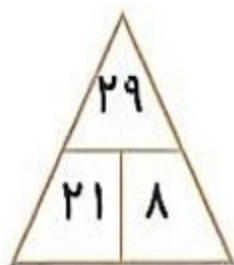
ریال

۱۲۰

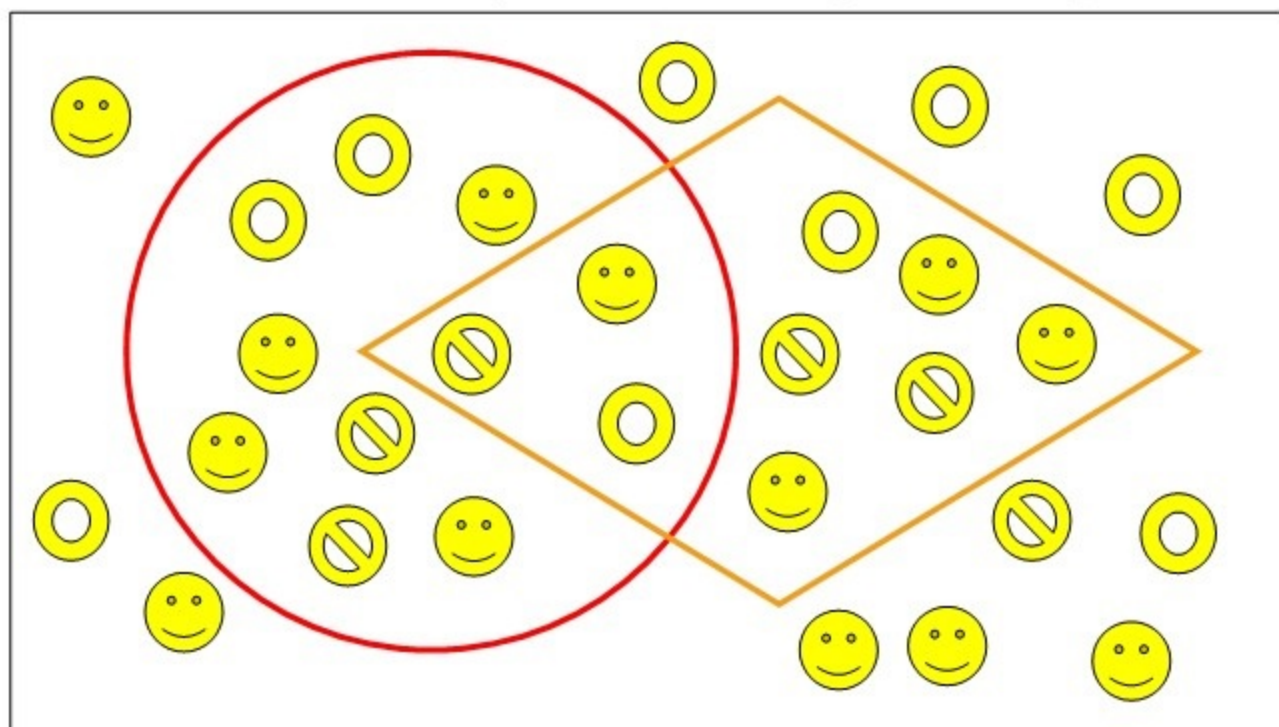
۱

۲

جاهای خالی را با عدد مناسب پر کنید




نمودار ون: جاهای خالی را با عدد مناسب پر کنید



یک صدتایی	یک ده تایی	یکی



۳۳۵



۵۴۸



۱۵۵



۴۹۰

از اعداد ۲، ۳، ۴ و ۶ استفاده کنید، قالب های زیر را در جدول طوری بچینید که هیچ عددی در هر سطر یا ستون تکرار نشود.

۴	۴	۶	۲	→	۱۵
۶	۲	۳	۴	→	۱۵
۴	۶	۲	۴	→	۱۵
۲	۳	۴	۶	→	۱۵

↓ ↓ ↓ ↓

۱۵	۱۵	۱۵	۱۵
----	----	----	----

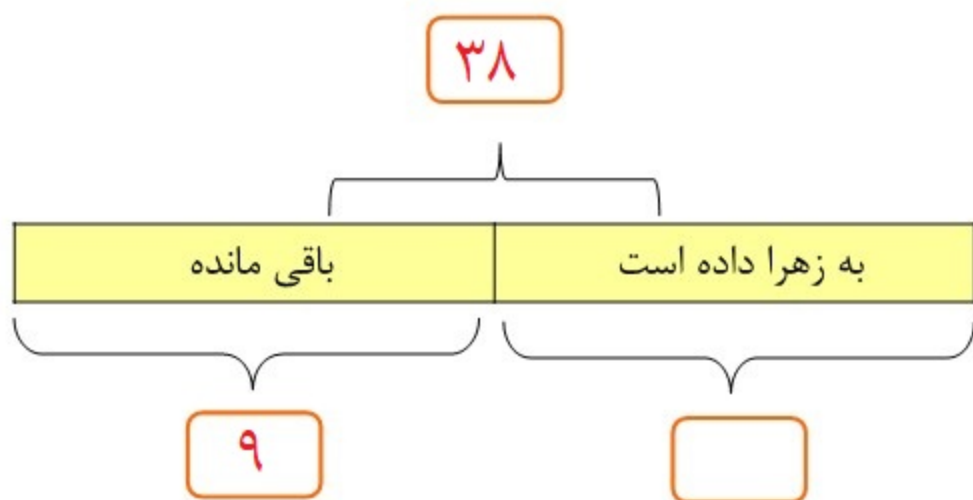
۴	۶	۲
		۴

۴	
۲	۳

	۳	
۶	۲	
	۴	

۲

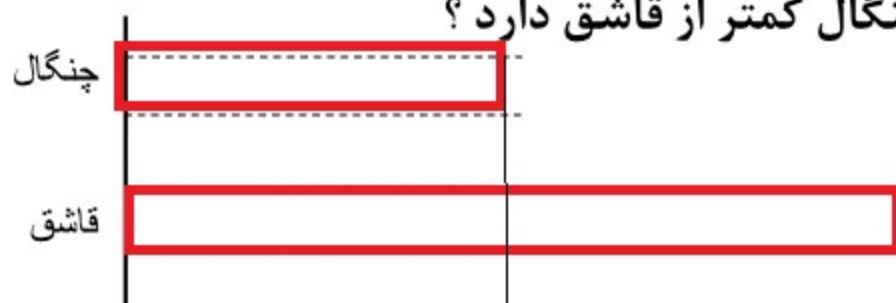
نوید ۳۸ چنگال و ۱۹ قاشق دارد.
چند چنگال را به زهرا می دهد.
۹ چنگال برای او باقی مانده است
نوید چند عدد چنگال به زهرا داده است؟



$$38 - 9 = 29$$

پاسخ: ۲۹ چنگال

حالا نوید چند چنگال کمتر از قاشق دارد؟



$$19 - 9 = 10$$

پاسخ: ۱۰ چنگال کمتر دارد

نوید اکنون و در کل الان چند قاشق و چنگال

$$19 + 9 = 28$$

دارد؟
پاسخ: ۲۸ در کل

در سبد (الف) ۹ سیب وجود دارد
 مهرداد ۳ سیب را به سبد (ب) منتقل می کند .
 اکنون هر دو سبد دارای مقدار مساوی سیب هستند .
 از ابتدا چند سیب در سبد (ب) وجود دارد ؟

رسم کنید و بشمارید

الف

ب

از ابتدا

از سبد الف

پاسخ : ابتدا سیب در سبد (ب) وجود داشت

؟

