

نام و نام خانوادگی:



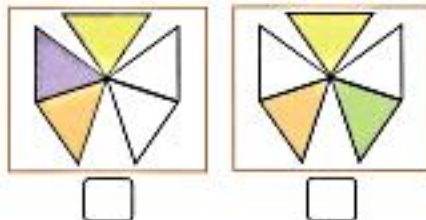
جشنواره استانی
شادی و نشاط سی مس
تیرماه ۱۴۰۲

نمره	x	کل
۲۰	۵	

مربع شگفت انگیز

۱	۴		۳	۲	۵
۲	۵	۳		۴	۶
۶	۱	۲	۵		۴
۵	۳		۲	۶	
	۶	۱	۴	۵	۲
۴		۵	۶	۱	۳

۲



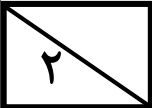
۱

۱

عددها را به ترتیب صعودی (کم به زیاد) در خانه ها بنویس

۳۴ ۱۱ ۳۰ ۴۳ ۷ ۲۴





○	○	○
○	○	○
○	○	?

-
-
-
-



۲۷ سیب وجود دارد.
 ۱۳ تا از آنها در **سبد قرمز** و بقیه در **سبد آبی** قرار دارند.
 چند سیب در سبد آبی وجود دارد؟

سبد قرمز

--	--	--	--	--	--	--	--	--	--	--	--	--	--	--

سبد آبی

--	--	--	--	--	--	--	--	--	--	--	--



پاسخ:..... سیب در **سبد آبی** وجود دارد.

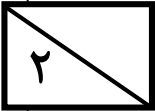


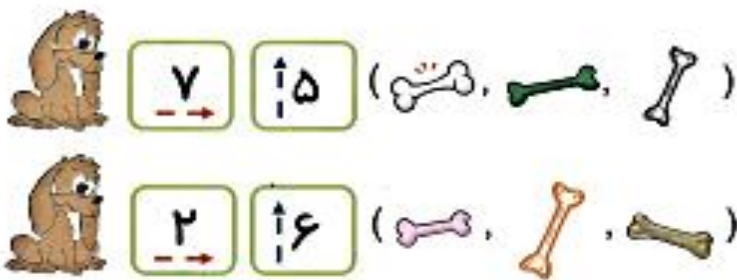

دهگان	یکان

جمعاً تعداد وجود دارد.

دهگان	یکان

جمعاً تعداد وجود دارد.




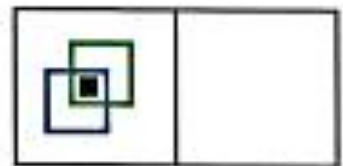

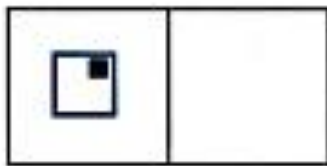
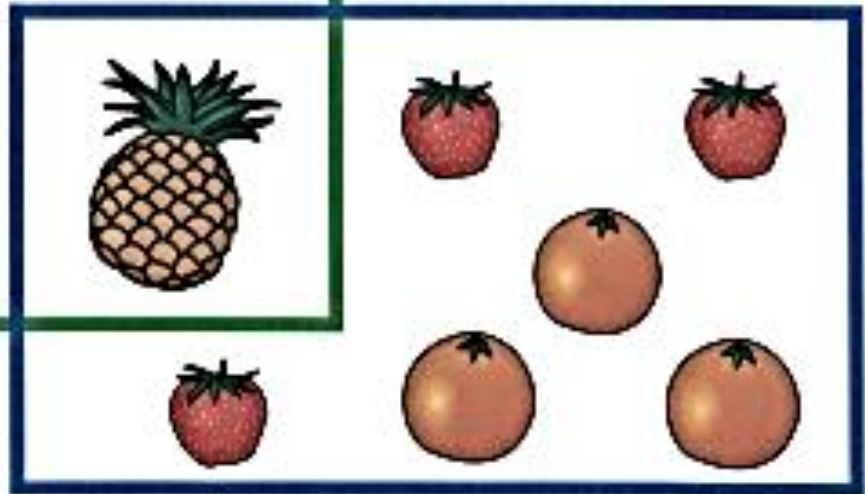





۲

من تعدادی موز دارم .
 مریم ۳ موز دیگر به من می دهد
 من حالا ۵ موز دارم
 من از ابتدا چند موز داشتم ؟


۲

۴



	۳				
					

۱ ۲ ۳ ۴ ۵ ۶ ۷ ۸ ۹ ۱۰ ۱۱ ۱۲ ۱۳ ۱۴ ۱۵ ۱۶ ۱۷ ۱۸ ۱۹ ۲۰ ۲۱ ۲۲ ۲۳ ۲۴ ۲۵ ۲۶ ۲۷ ۲۸ ۲۹ ۳۰ ۳۱ ۳۲



اعداد زوج را خط بزن

۱۴	۴۸	۶۳	۲۲	۱	۵۳
۴۱	۱۶	۴۳	۳۵	۷	۲۸
۵۴	۹	۳۶	۳	۱۹	۲۹
۶۷	۴۶	۲۰	۱۱	۷۲	۸۵
۷۴	۵۵	۹۶	۲۱	۶	۱۴

