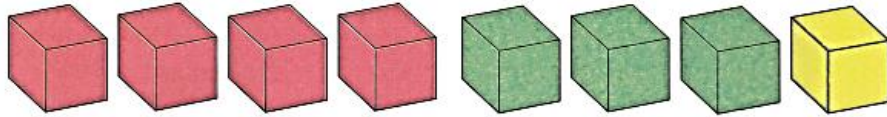


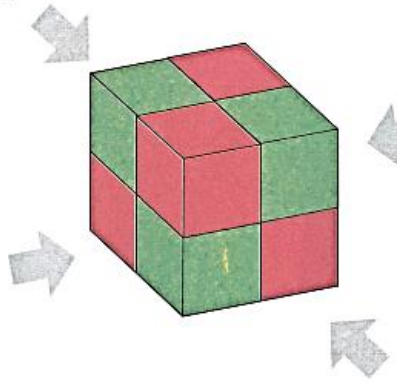
نام و نام خانوادگی:

جشنواره استانی
شادی و نشاط سی مس
تیرماه ۱۴۰۲

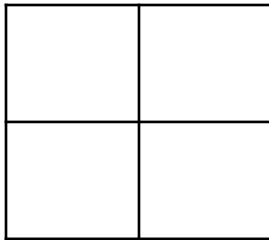
نمره	x	کل
۲۰	۵	




دید (ج)



دید (الف)



دید (الف)



دید (ج)

۲

تعدادی گربه در باغ وجود دارد، آن ها در مجموع ۲۴ پا دارند. چند گربه در باغ وجود دارد؟





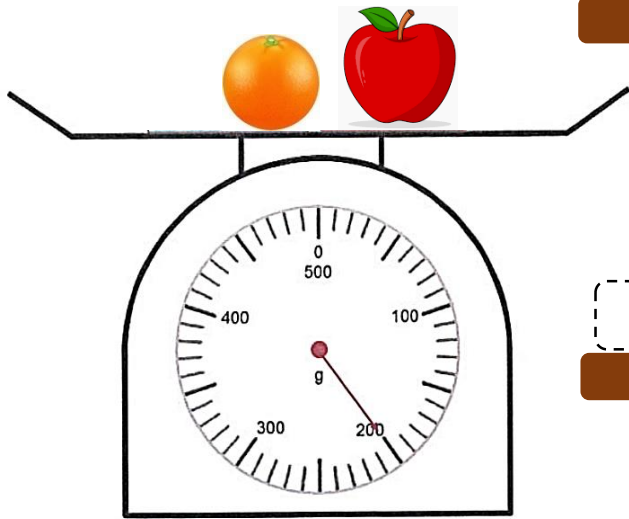
۱

۱

۱۰۰ گرم

۵۰ گرم

۲۰ گرم



۲

ساعت هم اکنون ۵:۱۰ صبح است
۲ ساعت و ۱۵ دقیقه بعد، ساعت (صبح / بعد از ظهر) خواهد بود.

ساعت هم اکنون ۱۱:۳۰ صبح است
۲ ساعت و ۳۰ دقیقه بعد، ساعت (صبح / بعد از ظهر) خواهد بود.

ساعت هم اکنون ۱۰:۴۵ بعد از ظهر است
۳ ساعت بعد، ساعت (صبح / بعد از ظهر) خواهد بود.

۳

۲

مادربزرگ یک کیک پخت . او کیک را به طور مساوی با ۳ نوه اش تقسیم کرد.
 هر کدام از نوه ها ، چه کسری از کیک را به دست آوردند ؟ (کسر ها را در مدل
 نشان دهید)




پاسخ : _____

۱

یک کیسه دوتایی توپ، ۱۵۰ ریال قیمت دارد. مجتبی به ۸ توپ نیاز دارد.
 الف) او چند کیسه توپ باید بخرد ؟
 ب) هزینه کل او برای خرید توپ ها چقدر است ؟

الگو را کامل کن:

توپ مورد نیاز



تعداد کل کیسه ها → ○ =

الف) جواب :

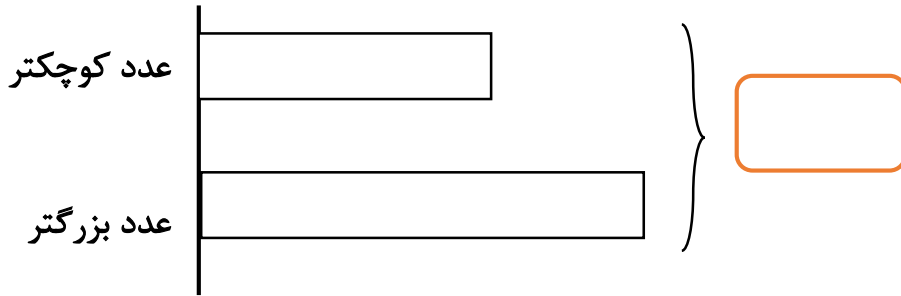
کل پرداختی → ○ =

ب) جواب :

۲

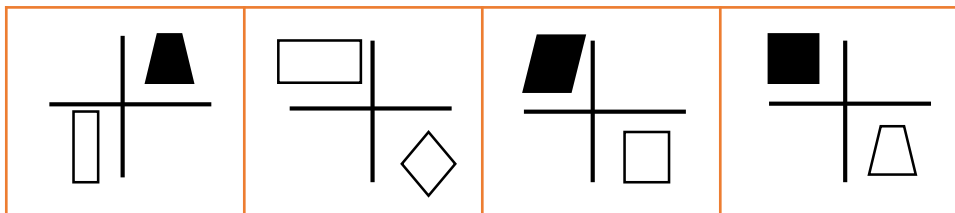
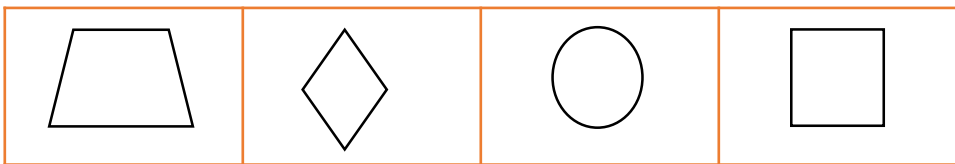
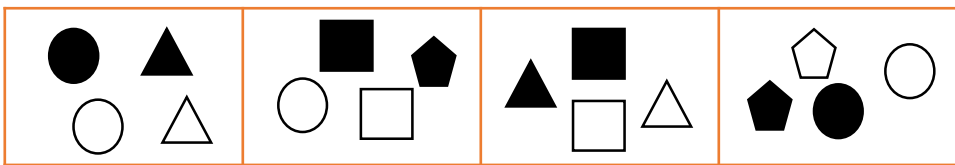
۳

مجموع این دو عدد ۳۲ است.
 تفاوت بین این دو عدد ۸ است
 دو عدد کدامند؟



مرحله ۱:
 عدد کوچکتر را پیدا کنید:

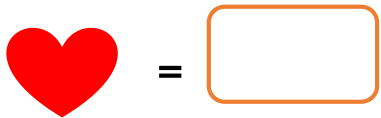

مرحله ۲:
 عدد بزرگتر را پیدا کنید:









۲

۳

۴



		۱	۱۰
			
۲		۶	۱۲
	۱۱		

۳

سیمی به طول ۱۸ سانتی متر، خم میشود، تا مثلث متساوی الاضلاع درست شود.

طول هر ضلع مثلث چقدر است؟

۱