



استانی

نام و نام خانوادگی:

امتیاز نهایی:

مدت زمان پاسخگویی: ۳۰ دقیقه

بسته آموزشی سیمس

سطح دو



دوسم دوره چنتراره کشور، ریاضیات (محل) سیمس
شهر مقدس مشهد-۱۴۰۳

موسسه آموزشی فرهنگی عصر طلایی رشد
کودک ایرانیان
شماره ثبت: ۳۷۰۲۲

۲

محاسبه زیر را انجام بده.

$$\text{Car} + 25 + \text{Scooter} = 60$$

$$2 \times \text{Scooter} = 20$$

$$\text{Car} = 25$$

$$\text{Scooter} = 10$$

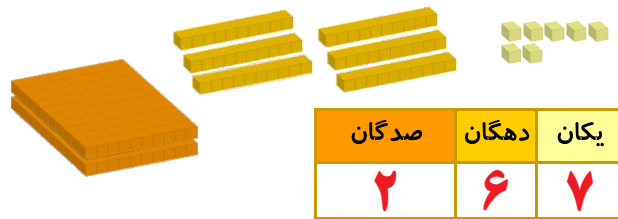
۱

جدول ارزش مکانی را تکمیل کن.



صدگان	دهگان	یکان
۲	۴	۶

$$200 + 40 + 6 = 246$$

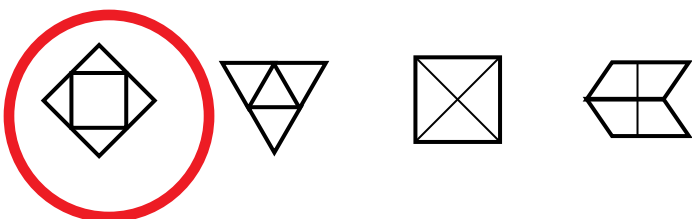
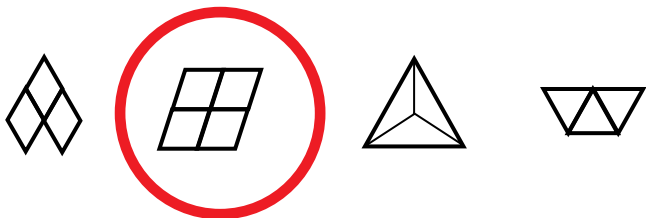
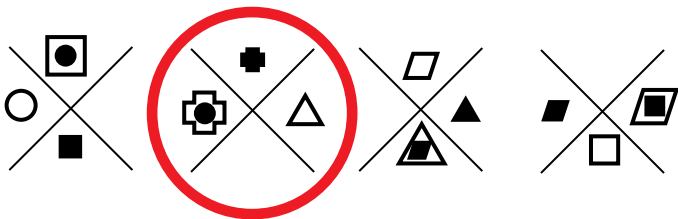


صدگان	دهگان	یکان
۲	۶	۷

$$200 + 60 + 7 = 267$$

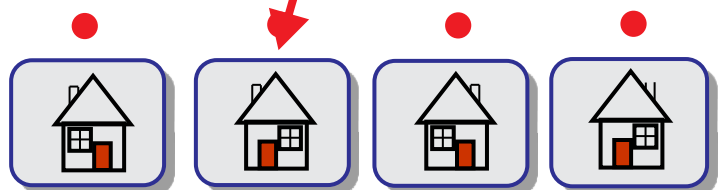

۴

کدام تصویر با بقیه متفاوت است.



۳

کدام گزینه صحیح است.





استانی

نام و نام خانوادگی:

امتیاز نهایی:

مدت زمان پاسخگویی: ۳۰ دقیقه

بسته آموزشی سیمس

سطح دو



موسسه آموزشی فرهنگی عصر طلایی رشد
کودک ایرانیان
شماره ثبت: ۳۷۰۲۳

۶

محاسبه عددی را انجام بده.

$$3 + 3 - 2 + 3 = 38$$

$$2 + 2 - 1 = 24$$

$$1 - 1 = 10$$

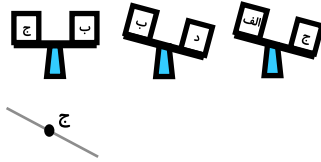
$$1 = 4$$

$$1 = 14$$

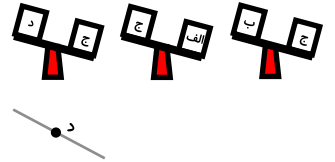
۵

سنگین ترین و سبک ترین را بنویس.


کدامیک سنگین ترین است؟ د



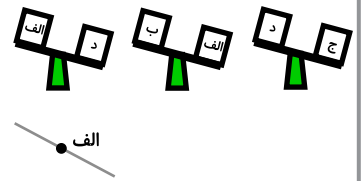
کدامیک سنگین ترین است؟ الف



کدامیک سبک ترین است؟ د



کدامیک سبک ترین است؟ ب



۸

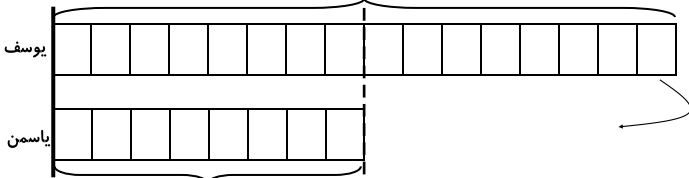
به سوال زیر پاسخ مناسب بده.

یوسف ۱۶ فنجان دارد، اما یاسمن ۸ فنجان دارد.

یوسف باید چند فنجان را به یاسمن بدهد تا هر دو به تعداد مساوی فنجان داشته باشند؟

رسم کنید و بشمارید

۱۶



۸

پاسخ: یوسف باید ۴ فنجان را به یاسمن بدهد.



۷

محاسبات زیر را انجام بده.

$$\begin{array}{r} 2 \quad 7 \quad 3 \\ + \quad \quad 8 \quad 6 \\ \hline 359 \end{array}$$

$$\begin{array}{r} \quad 5 \quad 7 \\ + \quad 3 \quad 9 \quad 8 \\ \hline 455 \end{array}$$

$$\begin{array}{r} \quad 4 \quad 3 \quad 8 \\ + \quad 4 \quad 5 \quad 4 \\ \hline 8 \quad 9 \quad 2 \end{array}$$

$$\begin{array}{r} \quad 3 \quad 7 \quad 8 \\ + \quad 2 \quad 6 \quad 1 \\ \hline 6 \quad 3 \quad 9 \end{array}$$

