



موسسه آموزشی فرهنگی عصر طلایی رشد  
کودک ایرانیان  
شماره ثبت: ۳۷۰۲۲

۲

محاسبه زیر را انجام بده.

+ ۲۵ + = ۶۰


+ = ۲۰

=

=


۱

جدول ارزش مکانی را تکمیل کن.



صدگان	دهگان	یکان

+  +  =

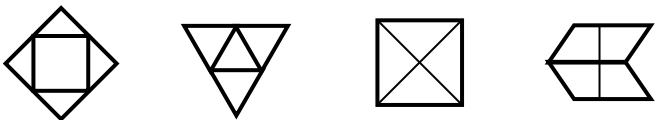
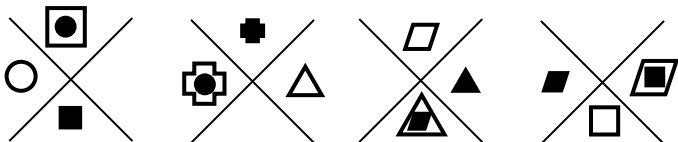


صدگان	دهگان	یکان

+  +  =

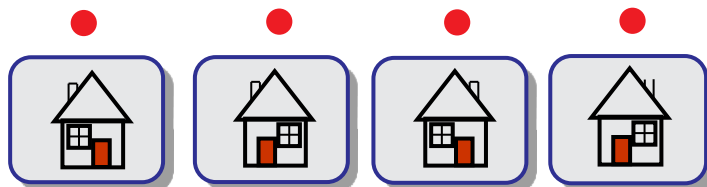

۴

کدام تصویر با بقیه متفاوت است.



۳

کدام گزینه صحیح است.





موسسه آموزشی فرهنگی عصر طلایی رشد  
کودک ایرانیان  
شماره ثبت: ۳۷۰۲۳

۶

محاسبه عددی را انجام بده.

$$\begin{array}{c}
 \text{[Jar]} + \text{[Jar]} - \text{[Jar]} + \text{[Jar]} = 38 \\
 \text{[Jar]} + \text{[Jar]} - \text{[Jar]} = 24 \\
 \text{[Jar]} - \text{[Jar]} = \square \\
 \text{[Jar]} = \square \\
 \text{[Jar]} = \square
 \end{array}$$

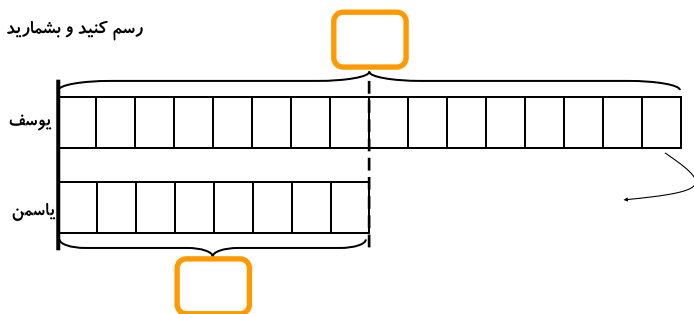
۸

به سوال زیر پاسخ مناسب بده.

یوسف ۱۶ فنجان دارد، اما یاسمن ۸ فنجان دارد.

یوسف باید چند فنجان را به یاسمن بدهد تا هر دو به تعداد مساوی فنجان داشته باشند؟

رسم کنید و بشمارید



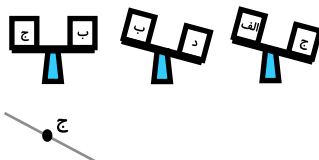
پاسخ: یوسف باید  فنجان را به یاسمن بدهد.



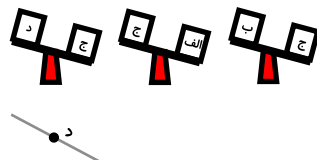
۵

سنگین ترین و سبک ترین را بنویس.

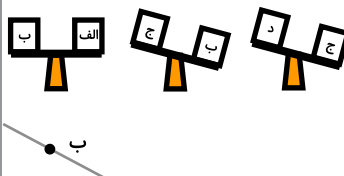
کدامیک سنگین ترین است؟ .....



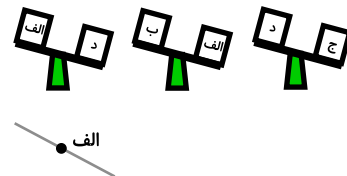
کدامیک سنگین ترین است؟ .....



کدامیک سبک ترین است؟ .....



کدامیک سبک ترین است؟ .....



۷

محاسبات زیر را انجام بده.

$$\begin{array}{r}
 2 \quad 7 \quad 3 \\
 + \quad \quad 8 \quad 6 \\
 \hline
 \hline
 \end{array}$$

$$\begin{array}{r}
 \quad 5 \quad 7 \\
 + \quad 3 \quad 9 \quad 8 \\
 \hline
 \hline
 \end{array}$$

$$\begin{array}{r}
 4 \quad 3 \quad \square \\
 + \quad \square \quad 5 \quad 4 \\
 \hline
 8 \quad 9 \quad 2
 \end{array}$$

$$\begin{array}{r}
 3 \quad 7 \quad \square \\
 + \quad 2 \quad \square \quad 1 \\
 \hline
 6 \quad 3 \quad 9
 \end{array}$$

