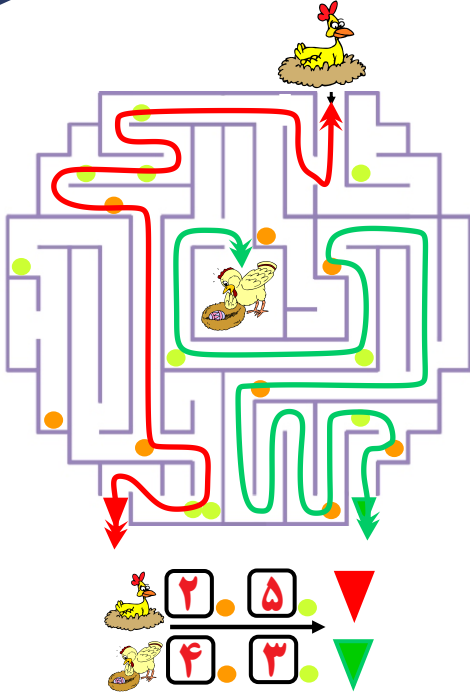




موسسه آموزشی فرهنگی عصر طلایی رشد
کودک ایرانیان
شماره ثبت: ۳۷۰۲۲

۲

مسیر صحیح را انتخاب و شمارش را انجام بده.



۱

محاسبه عددی و حل مسئله را انجام بده.

دارد. ۴

دارد. ۲


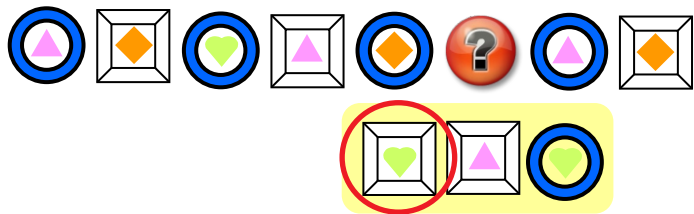
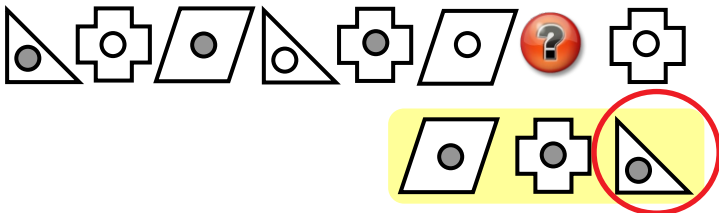
چند با هم دارند؟ (با ابزار در اختیار، نمایش دهید).




۶

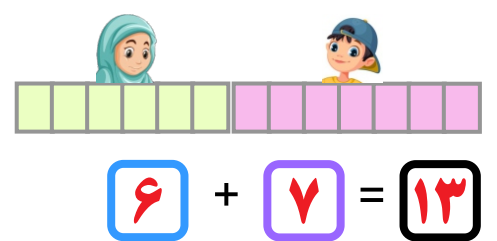
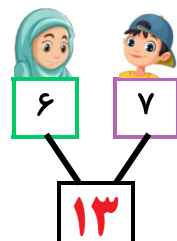
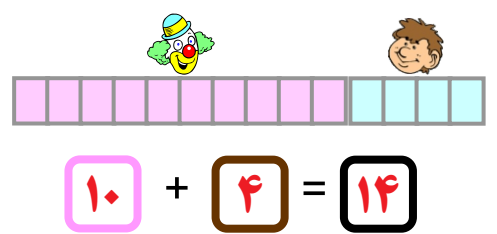
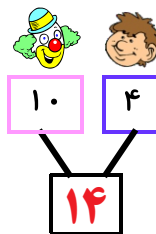
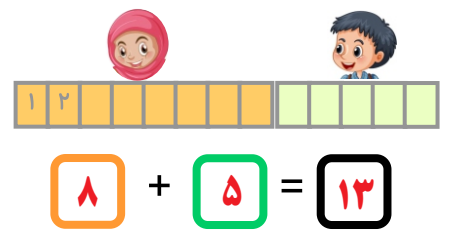
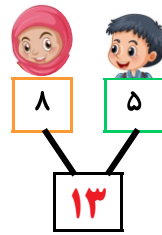
۴

طبق الگو کدام گزینه صحیح است.



۳

شمارش و جمع زیر را انجام بده.





استانی

نام و نام خانوادگی:

امتیاز نهایی:

مدت زمان پاسخگویی: ۳۰ دقیقه

بسته آموزشی سیمس
سطح یک



گروه آموزشی فرهنگی عصر طلایی رشد
کودک ایرانیان
شماره ثبت: ۳۷۰۲۴

۶

جمع سکه های زیر را حساب و بنویس.



ریال ۶۵



ریال ۵۶



ریال ۷۱



ریال ۳۵

۸

عدد مناسب را بنویس و شکل صحیح را با دایره مشخص کن.

شروع

پایان

۵۷ $\xrightarrow{\text{کام ۳}}$ **۶۰**

۷۰ $\xrightarrow{\text{کام ۴}}$ **۷۴**

۶۲ $\xrightarrow{\text{کام ۸}}$ **۷۰**


$\xrightarrow{\text{کام ۵}}$ **۷۵**

$\xrightarrow{\text{کام ۷}}$ **۵۹**

$\xrightarrow{\text{کام ۹}}$ **۶۲**

۵

گزینه مناسب را انتخاب کن.



۱ ۲ ۳

۲ ۲ ۲

۷

مسیر صحیح را انتخاب کن.

۲