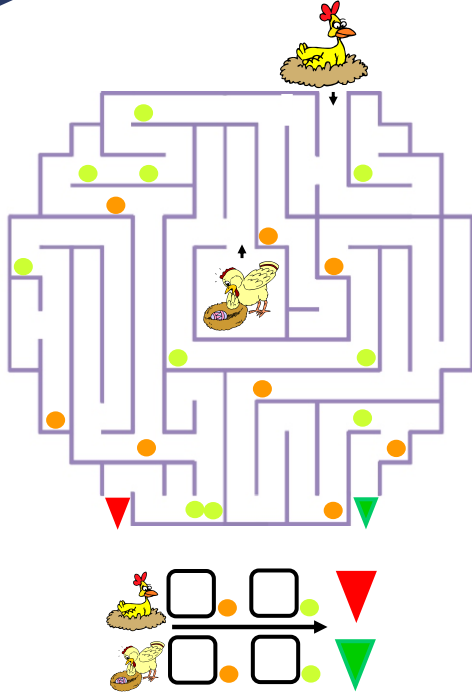




موسسه آموزشی فرهنگی عصر طلایی رشد  
کودک ایرانیان  
شماره ثبت: ۳۷۰۲۲

۲

مسیر صحیح را انتخاب و شمارش را انجام بده.




۱

محاسبه عددی و حل مسئله را انجام بده.

دارد.  ۴ 

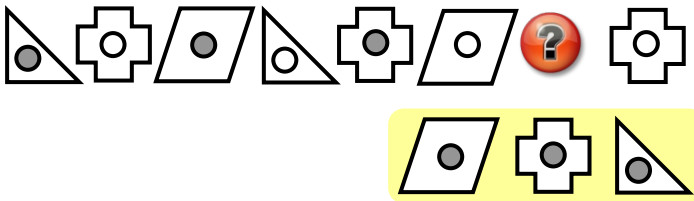
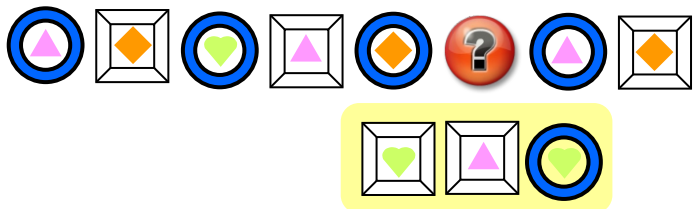
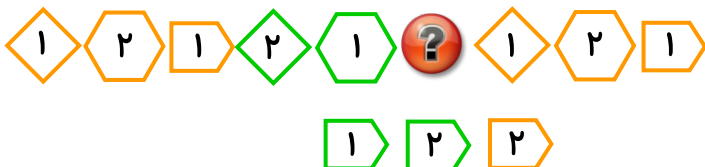
دارد.  ۲ 

چند  با هم دارند؟ (با ابزار در اختیار، نمایش دهید).



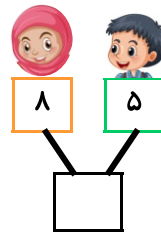
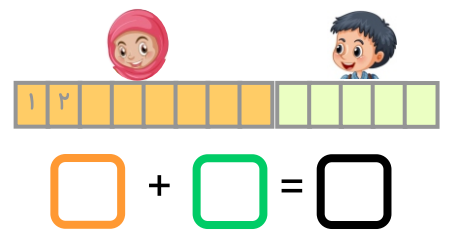

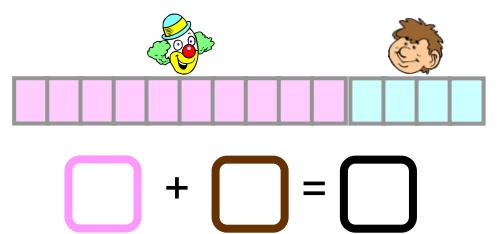
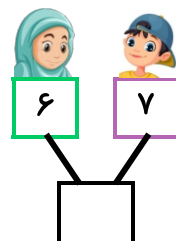
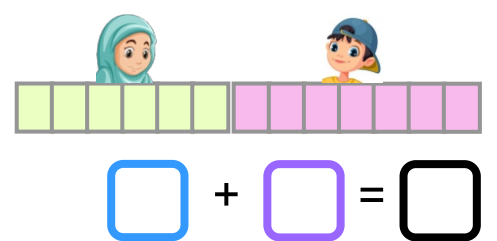
۴

طبق الگو کدام گزینه صحیح است.

۳

شمارش و جمع زیر را انجام بده.



دوسم دوره دستورالعمل کنکور ریاضیات (فصل سوم)  
شهر مقدس مشهد - ۱۴۰۳

استانی

نام و نام خانوادگی:

امتیاز نهایی:

مدت زمان پاسخگویی: ۳۰ دقیقه

بسته آموزشی سیمس  
سطح یک



۶

جمع سکه های زیر را حساب و بنویس.



ریال



ریال



ریال



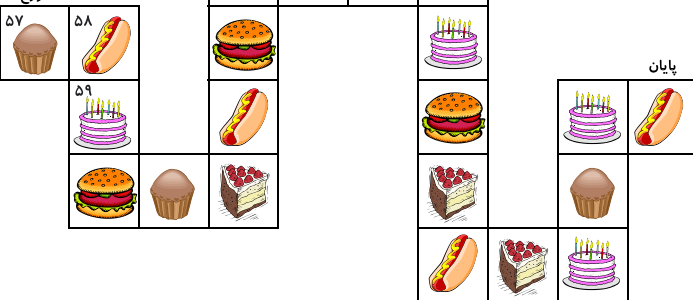
ریال

۸

عدد مناسب را بنویس و شکل صحیح را با دایره مشخص کن.



شروع



پایان

۵۷  $\xrightarrow{\text{گام ۳}}$  ۶۰

۷۰  $\xrightarrow{\text{گام ۴}}$

۶۲  $\xrightarrow{\text{گام ۸}}$

$\xrightarrow{\text{گام ۵}}$   ۷۵

$\xrightarrow{\text{گام ۷}}$   ۶۶

$\xrightarrow{\text{گام ۹}}$   ۷۱

۵

گزینه مناسب را انتخاب کن.



۱




۲



۳



۲



۲



۲

۷

مسیر صحیح را انتخاب کن.

