

موسسه آموزشی تخصصی حسرتعلیمی رشد
چکاپ اولادان
شماره ثبت: ۳۷۰۲۳

۲

مکعب ها را بشمار و تعداد درست را علامت بزن.

۱۲ ۹ ۱۸
 ۱۱ ۱۴ ۲۰
 ۱۰ ۹ ۱۱
 ۱۵ ۸ ۱۱

۱

شکل ها را به هم وصل و رنگ کن.

	۱	۲	۳
	۶	۵	۴

۱ ۵ ۴ ۲ ۳ ۶

۴

با توجه به مدل بشمار و بنویس.

۱۲ ۱۲
 ۹ ۱۴

۳

هر ساعت چه وقتی را نشان میدهد.

۰۵:۱۰ ۰۹:۰۰ ۰۴:۳۰
 ۸:۰۰ ۱۰:۱۰ ۵:۰۰



استانی

نام و نام خانوادگی:

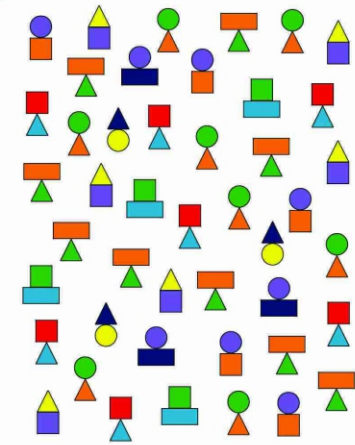
مدت زمان پاسخگویی: ۳۰ دقیقه امتیاز نهایی:



موسسه آموزشی فرزکی عصر طلایی رشد
کودک ایرانیان
شماره ثبت: ۳۷-۳۳

بشمار و بنویس.

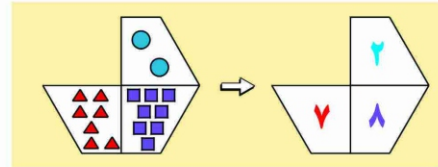
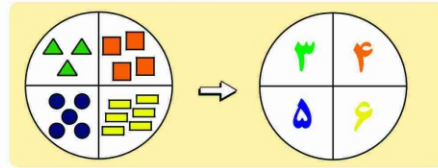
۶



	→	(۸)		→	(۵)
	→	(۳)		→	(۹)
	→	(۷)		→	(۳)
	→	(۶)		→	(۴)

در جاهای خالی عدد مناسب بنویس.

۵



$$① \left(\frac{1}{4} \right) + \left(\frac{1}{8} \right) = \left(\frac{1}{2} \right)$$

$$⑥ \left(\frac{1}{7} \right) + \left(\frac{1}{8} \right) = \left(\frac{15}{56} \right)$$

$$② \left(\frac{1}{3} \right) + \left(\frac{1}{5} \right) = \left(\frac{8}{15} \right)$$

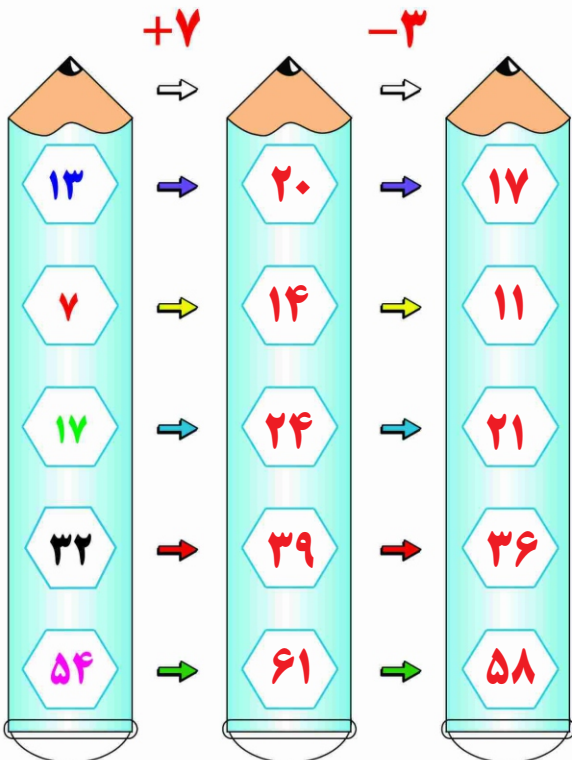
$$⑤ \left(\frac{1}{4} \right) + \left(\frac{1}{7} \right) = \left(\frac{11}{28} \right)$$

$$③ \left(\frac{1}{7} \right) + \left(\frac{1}{6} \right) = \left(\frac{13}{42} \right)$$

$$④ \left(\frac{1}{8} \right) + \left(\frac{1}{6} \right) = \left(\frac{14}{24} \right)$$

در جای خالی عدد مناسب را بنویس.

۸



در جای خالی عدد مناسب را بنویس.

۷

