

موسسه آموزشی تخصصی حسرتعلیمی رشد
چیتک ارواندان
شماره ثبت: ۳۷۰۲۳


۲




□ □ □
۱۲ ۹ ۱۸



□ □ □
۱۱ ۱۴ ۲۰




□ □ □
۱۰ ۹ ۱۱



□ □ □
۱۵ ۸ ۱۱

با توجه به مدل بشمار و بنویس.

۴



۱

شکل ها را به هم وصل و رنگ کن.


	۱	۲	۳
	۶	۵	۴

۱ ۵ ۴ ۲ ۳ ۶




هر ساعت چه وقتی را نشان میدهد.


۳



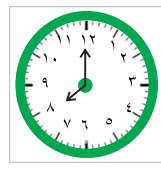
۰۵ : ۱۰



۰۹ : ۰۰



۰۴ : ۳۰



:



:



:



استانی

نام و نام خانوادگی:

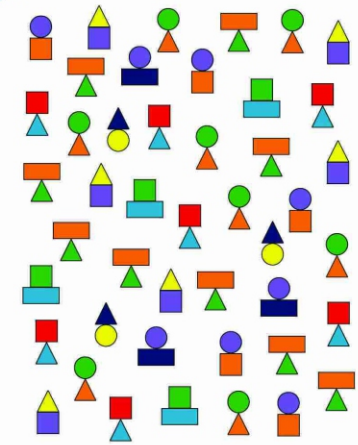
مدت زمان پاسخگویی: ۳۰ دقیقه امتیاز نهایی:



موسسه آموزشی فرزکی عصر طلایی رشد
کودک ایرانیان
شماره ثبت: ۳۷-۳۳

بشمار و بنویس.

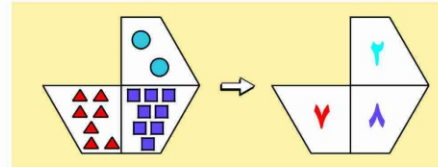
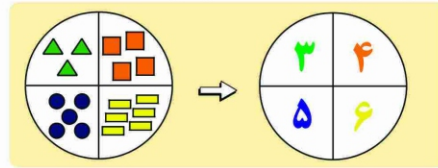
۶



	→ ()		→ ()
	→ ()		→ ()
	→ ()		→ ()
	→ ()		→ ()
	→ ()		→ ()
	→ ()		→ ()
	→ ()		→ ()
	→ ()		→ ()

در جاهای خالی عدد مناسب بنویس.

۵



		$() + (۸) = ()$			$(۷) + () = ()$
		$(۳) + () = ()$			$() + (۷) = ()$
		$() + (۶) = ()$			$(۸) + () = ()$

در جای خالی عدد مناسب را بنویس.

۸

	$+۷$		-۳	

در جای خالی عدد مناسب را بنویس.

۷