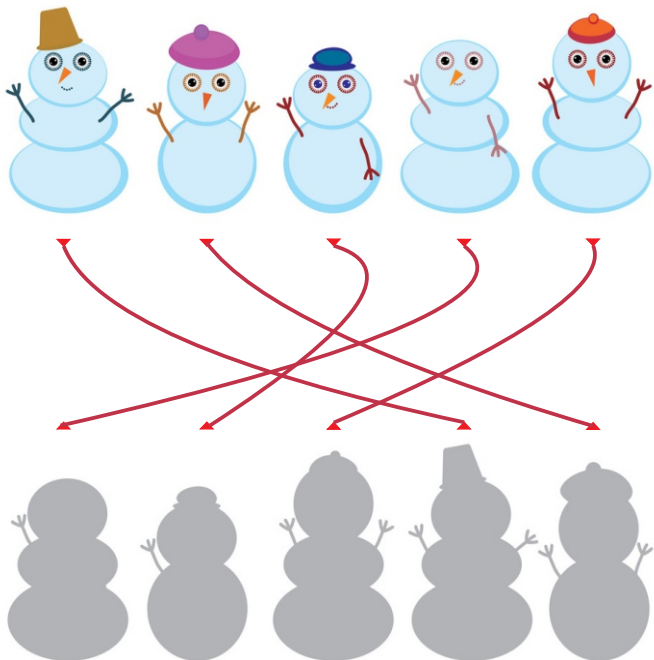


موسسه آموزشی فرهنگی عصر طلایی رشد  
کودک ایرانیان  
شماره ثبت: ۳۲۰۲۳

۲

کدام یک از سایه ها مطابق به شکل های زیر است.




۱

به مدل با دقت نگاه کن و هر کدام که در قسمت ابر هست را علامت بزن.




۴

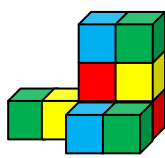
مکعب ها را بشمار و تعداد درست را علامت بزن.



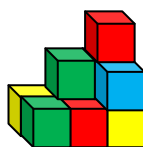
۱۲ ۹ ۱۷



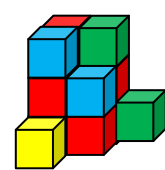
۷ ۱۰ ۸



۹ ۱۰ ۱۸





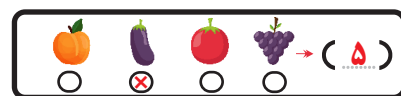
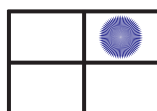
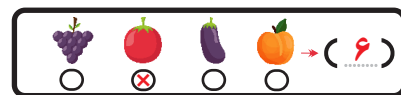


۱۵ ۷ ۱۰



۱۳ ۷ ۹

۳


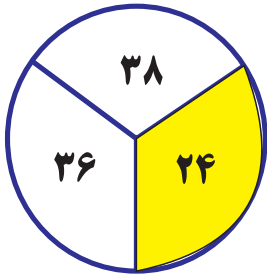
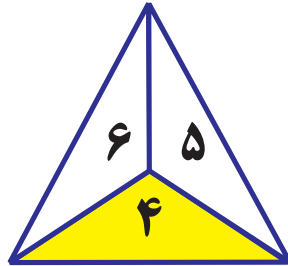
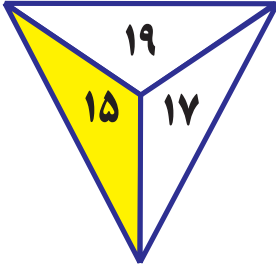
شکل صحیح را علامت بزن و عدد مناسب را بنویس.



موسسه آموزشی فرهنگی عصر طلایی رشد  
کودک ابراهیمان  
شماره ثبت: ۳۷۰۲۲

۶

کمترین عدد را رنگ کن.



۸

ابتدا شماره لباس ها را پیدا کن، سپس محاسبات لازم را انجام بده.



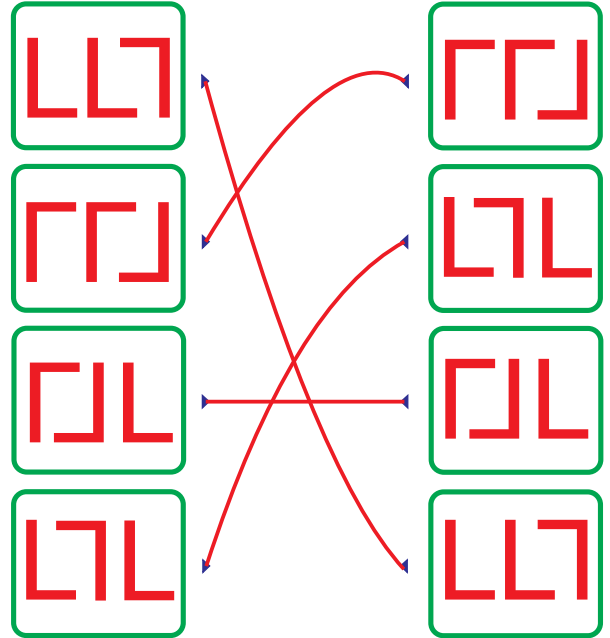
$$\begin{array}{c} \text{[sandals]} \\ + \\ \text{[sweater]} \\ = \\ \text{[3]} \end{array}$$

$$\begin{array}{c} \text{[red t-shirt]} \\ + \\ \text{[yellow hoodie]} \\ = \\ \text{[8]} \end{array}$$

$$\begin{array}{c} \text{[red hoodie]} \\ + \\ \text{[sandals]} \\ = \\ \text{[5]} \end{array}$$

۵

شکل های مشابه را به هم وصل کن.



۷

شکل های مشابه را با هم جمع کن و جای مناسب بنویس.

